


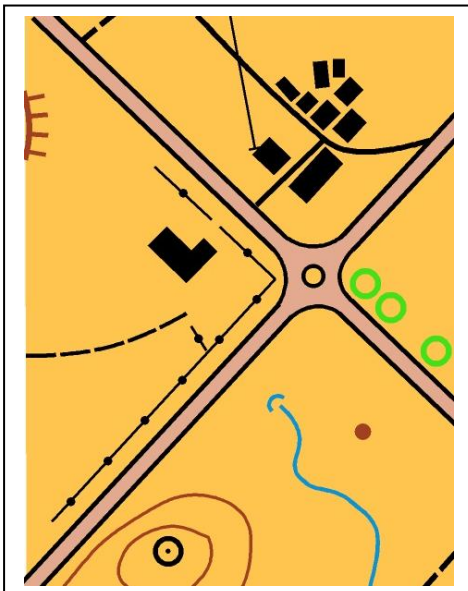


2014

BALISE BLEUE
Direction Technique Nationale

1 - Compare la carte au paysage. Indique sur le paysage (à droite) avec une flèche au moins 5 éléments qui ne figurent pas sur la carte de gauche (2,5 points)

pts



2 - Donne en texte, les définitions de ces postes de contrôle situés au centre du cercle : (1 point)

pts

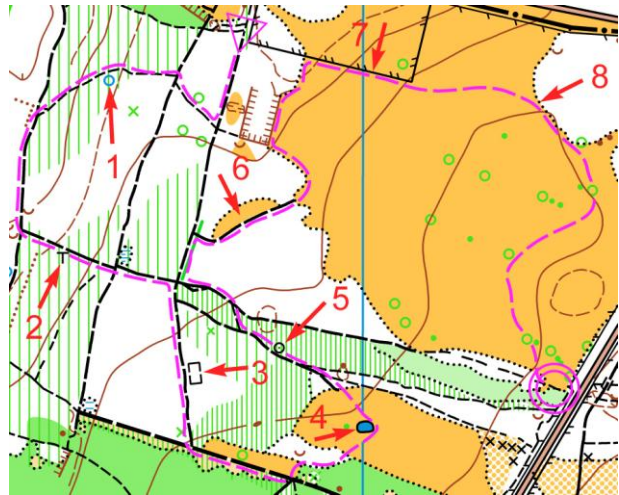
3 - Dessine dans les cases prévues, le symbole correspondant au symbole de la carte et donne sa couleur (2 points)

pts

LIMITE DE VEGETATION Couleur :	MARE Couleur :	CLOTURE FRANCHISSABLE Couleur :	SOUCHE Couleur :
---	-------------------------	--	---------------------------

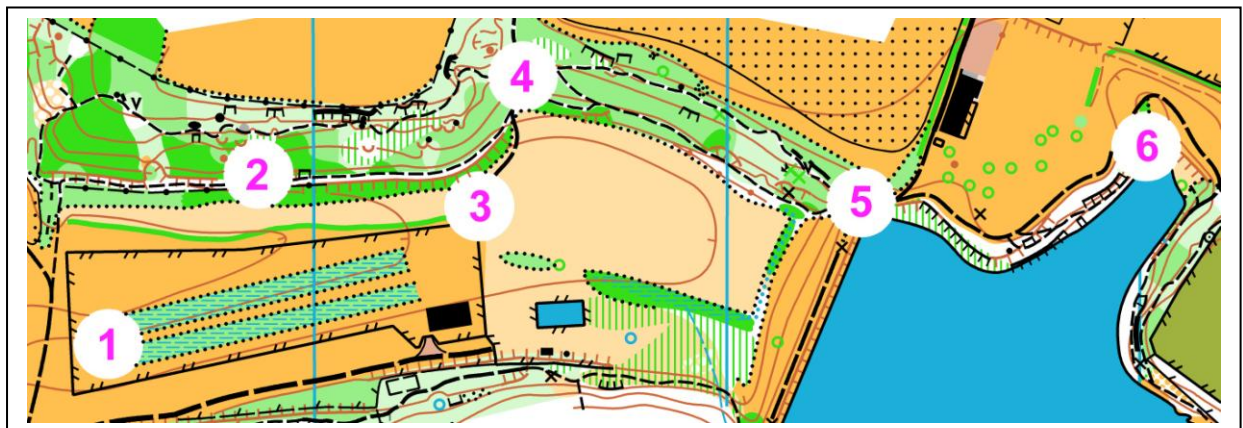
4 - Depuis le point de départ, en suivant l'itinéraire tracé sur la carte ci-dessous, tu passes à côté de différents symboles indiqués par des flèches, numérotés de 1 à 8, et qui sont situés soit à droite soit à gauche du chemin. Suivant que ces symboles se situent à gauche ou à droite du chemin que tu suis, classe les dans la bonne colonne et donne leur signification (2 points)

pts

	SIGNIFICATION SYMBLES A GAUCHE DU CHEMIN	SIGNIFICATION SYMBLES A DROITE DU CHEMIN

5 - Replace les pièces du puzzle à la bonne place en reportant le chiffre à côté de la lettre (3 points)

pts



A =



B =



C =



D =



E =



F =


6 - Tu dois réaliser le suivi d'itinéraire qui est tracé sur la carte. Compare bien la carte avec le paysage et retrace précisément, à partir du point de départ, cet itinéraire sur le paysage. (2 points)

pts

CARTE

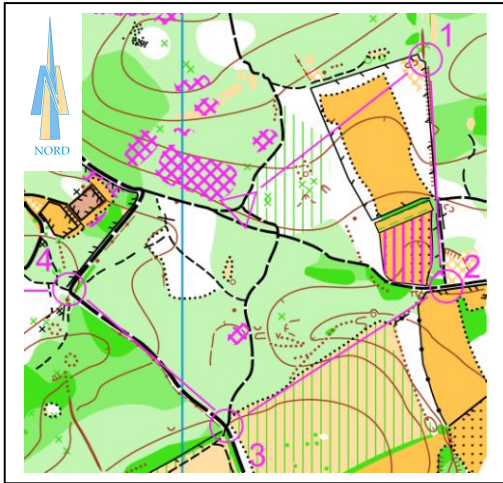


PAYSAGE



7 - Relie les directions dans lesquelles court cet orienteur sur les différents itinéraires (2 points)

pts



ITINERAIRES

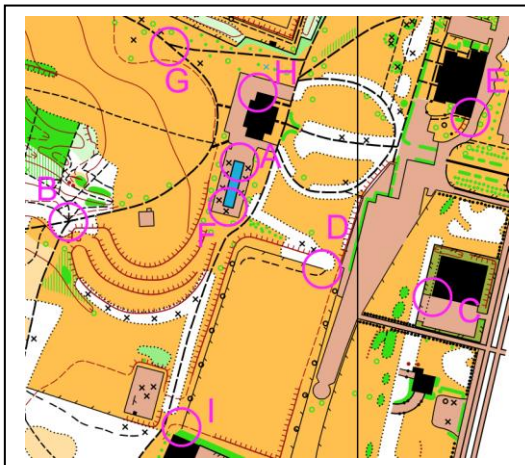
- Départ -----> Poste 1 ●
- Poste 1 -----> Postes 2 ●
- Poste 2 -----> Postes 3 ●
- Poste 3 -----> Postes 4 ●

DIRECTIONS

- Est
- Sud - Est
- Nord - Ouest
- Sud - Ouest
- Nord - Est
- Ouest
- Sud

8 - Trouve la balise correspondant à la bonne définition. Reporte la lettre de la balise dans la case de la définition (attention, il y a plus de balises que de définitions) (1 point)

pts



Bâtiment - Angle Sud Ouest	1
Mare - Bord Nord	2
Jonction de sentiers	3
Clôture - Extrémité Est	4

9 - Observe bien les photos et essaie de retrouver l'endroit où elles ont été prises par le photographe. Entoure la lettre correspondant à la position du photographe (1,5 point)


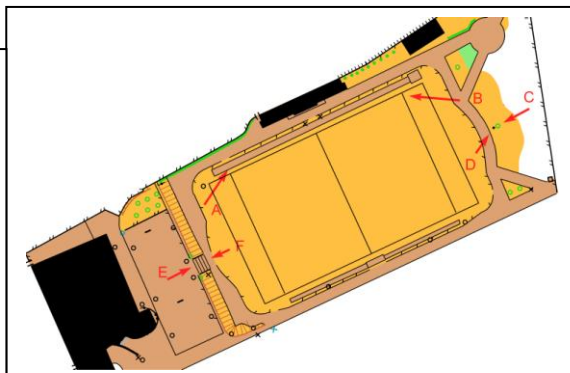


Photo 1 : C ou D

Photo 2 = E ou F

Photo 3 = A ou B



10 - Dictée'O. Essaie de trouver l'emplacement des 3 balises réalisées par cet orienteur en lisant ce qu'il raconte. Quand tu trouves l'emplacement du poste, entoure l'élément sur lequel se trouve la balise. Je te conseille d'orienter la carte et de la lire comme en course (3 points)

pts

" Je suis au triangle de départ. Je prends le chemin indiqué par la pointe du triangle. J'arrive à une jonction où je prends le chemin qui part sur la droite. Je passe une intersection et tout en continuant tout droit je passe une première limite de végétation et à la seconde en tournant à gauche je la suis jusqu'au moment où je trouve la balise 1 sur une borne à droite de cette limite. Je repars immédiatement sans revenir sur mes pas en suivant la limite de végétation. J'arrive à un chemin où je tourne à gauche. Je continue sur ce chemin jusqu'au deuxième fossé que je suis jusqu'à son extrémité où je trouve la balise 2. Je rejoins le sentier situé à l'ouest et le suit dans la direction du Nord. Je franchis un première clôture puis un seconde. J'arrive à une intersection que je franchis en allant tout droit. En continuant sur ce sentier, je trouve la balise 3 au bord de la clairière située à droite du sentier."

